

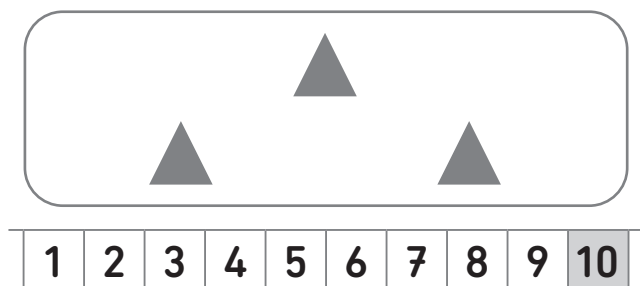


1 - Dénumérer des collections




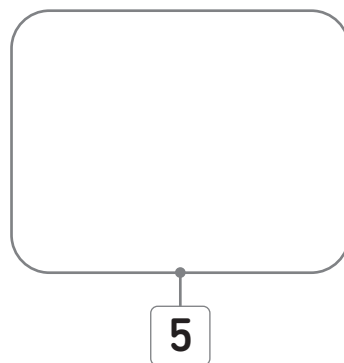
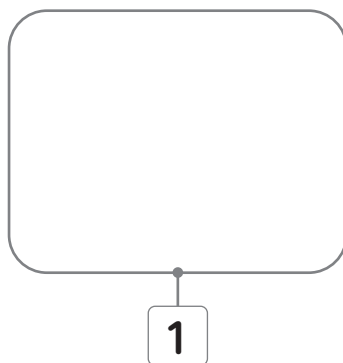
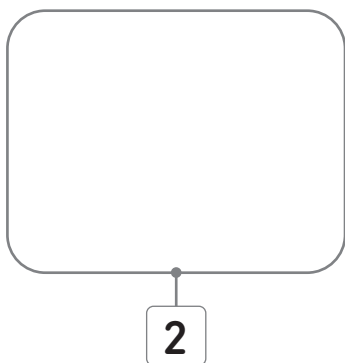
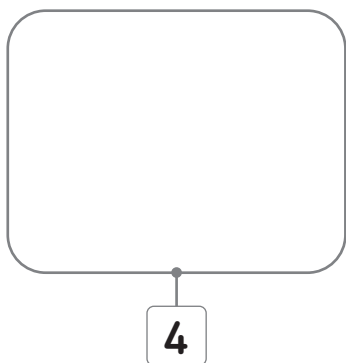
 **Entoure** sur chaque file numérique le nombre de formes.



2 - Dessiner des collections




 **Dessine** le nombre de jetons demandé.



3 - Connaître la suite des nombres



 **Écris** les nombres pour compléter les files numériques:



4 - Additionner



 **Calcule.**

$1 + 2 = \dots\dots$

$4 + 1 = \dots\dots$

$2 + 2 = \dots\dots$

5 - Soustraire



 **Calcule.**

$5 - 2 = \dots\dots$

$4 - 3 = \dots\dots$

$3 - 1 = \dots\dots$

Résultat

☐ Je dois m'entraîner sur les compétences : .....

☐ Je maîtrise toutes les compétences, je peux changer de zone.