


## LA MULTIPLICATION EN RECTANGLE


1 Complète en te servant des rectangles représentés.

4 lignes de 5 carreaux :  
20 carreaux

$$5 + 5 + 5 + 5 = 20$$

$$4 \text{ fois } 5 = 20$$

$$4 \times 5 = 20 \quad \leftrightarrow \quad 5 \times 4 = 20$$

5 lignes de 4 carreaux :  
20 carreaux

$$4 + 4 + 4 + 4 + 4 = 20$$


$$5 \text{ fois } 4 = 20$$

$$5 \times 4 = 20 \quad \leftrightarrow \quad 4 \times 5 = 20$$


2 Écris les deux multiplications qui correspondent à chaque rectangle.




$$2 \times 4 = 8 \quad \leftrightarrow \quad 4 \times 2 = 8$$



$$3 \times 8 = 24 \quad \leftrightarrow \quad 8 \times 3 = 24$$



$$4 \times 7 = 28 \quad \leftrightarrow \quad 7 \times 4 = 28$$



$$5 \times 2 = 10 \quad \leftrightarrow \quad 2 \times 5 = 10$$



Écris l'addition correspondant à chaque multiplication puis calcule.

$$4 \times 9 = 9 + 9 + 9 + 9 = 36$$

$$5 \times 10 = 10 + 10 + 10 + 10 + 10 = 50$$

$$3 \times 8 = 8 + 8 + 8 = 24$$

$$4 \times 7 = 7 + 7 + 7 + 7 = 28$$

$$6 \times 9 = 9 + 9 + 9 + 9 + 9 + 9 = 54$$