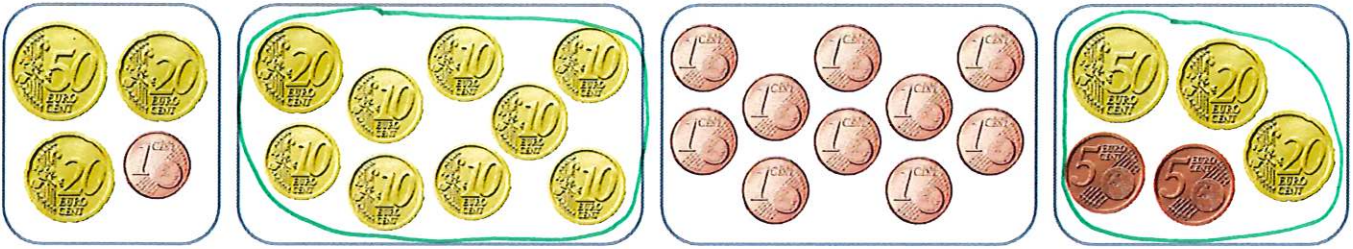


16

LA MONNAIE : LES CENTIMES

1 Entoure les sommes égales à 1 €.



2 Dessine uniquement des centimes pour obtenir les sommes d'argent demandées.

113 ct

50 ct 50 ct 10 ct 2 ct 1 ct

1 € 24 ct

50 ct 50 ct 20 ct 2 ct 2 ct

2 € 5 ct

50 ct 50 ct 50 ct 50 ct 5 ct

157 ct

50 ct 50 ct 50 ct 5 ct 2 ct

3 Écris le montant de chaque somme d'argent.
Tu peux t'aider en entourant ce qui fait 100 ct.







152 ct = 1 € 52 ct



115 ct = 1 € 15 ct



Complète chaque somme d'argent donnée au marchand.
Écris chaque somme d'argent que rend le marchand.

PRIX DE L'OBJET	JE DONNE	LE MARCHAND ME REND
 35 ct	 1 € = ...100... ct	...65 ct...
 1 € 10 ct	 2 € = ...200... ct	1€ 10 ct = 110 ct ...90 ct...