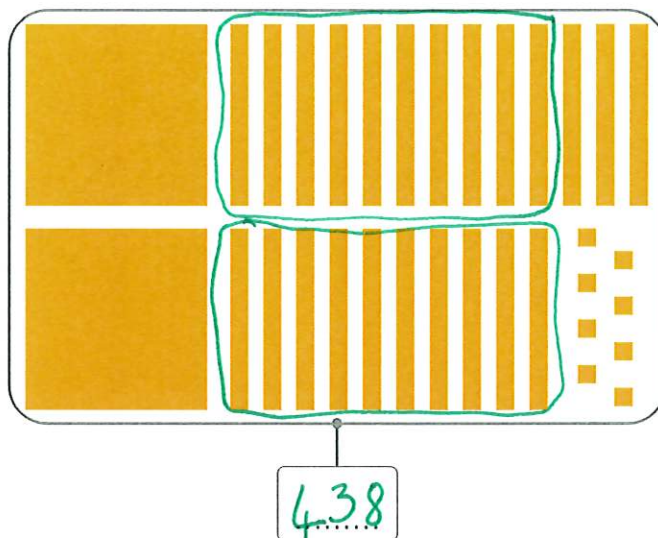
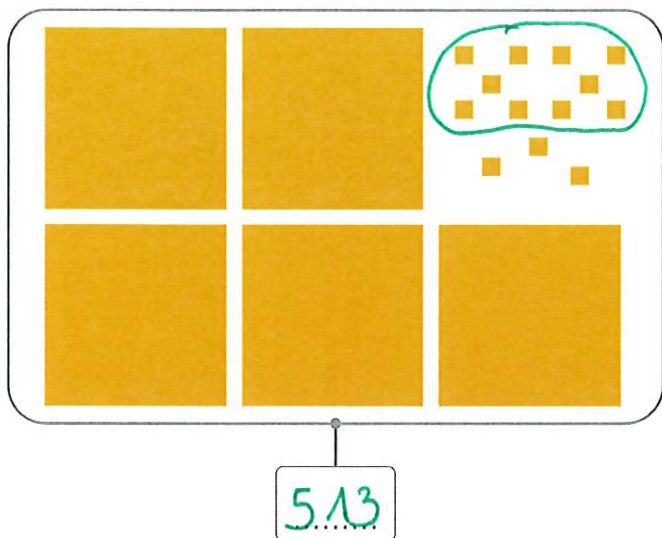
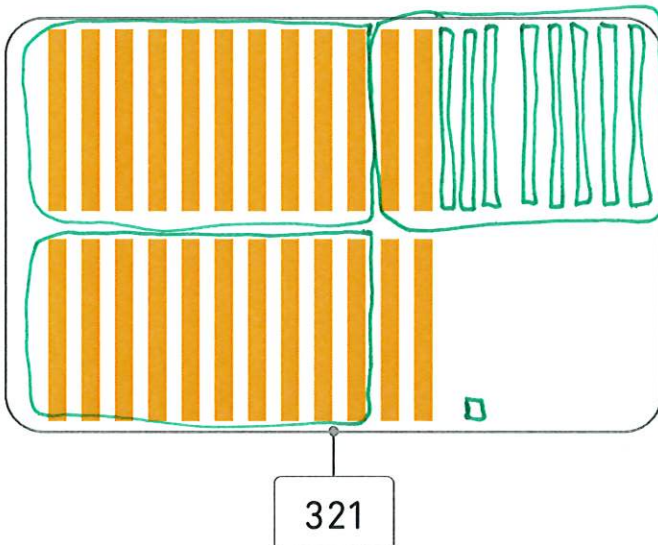
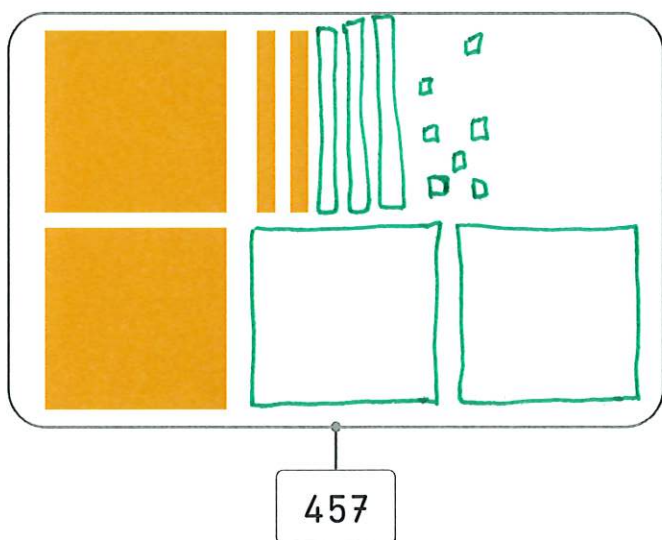


LES NOMBRES JUSQU'À 1 000 (1)

1 Écris les nombres représentés.

2 Dessine les centaines, dizaines et unités manquantes pour obtenir les nombres demandés.
Tu n'as pas le droit de barrer.

3 Complète.

8 centaines = 800 unités2 centaines = 20 dizaines40 dizaines = 400 unités500 unités = 50 dizaines3c = 30 d600u = 6 c7c = 700 u90d = 900 u



Complète.

$$7c \ 62u = \dots 7 \dots c \dots 6 \dots d \dots 2 \dots u$$

$$59u \ 4c = \dots 4 \dots c \dots 5 \dots d \dots 9 \dots u$$

$$3u \ 45d = \dots 4 \dots c \dots 5 \dots d \dots 3 \dots u$$

$$6c \ 18d = \dots 7 \dots c \dots 8 \dots d \dots 0 \dots u$$

$$87d \ 9u = \dots 8 \dots c \dots 7 \dots d \dots 9 \dots u$$

$$71d \ 24u = \dots 7 \dots c \dots 3 \dots d \dots 4 \dots u$$