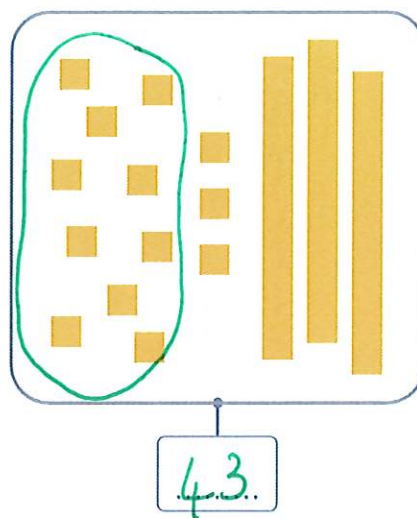
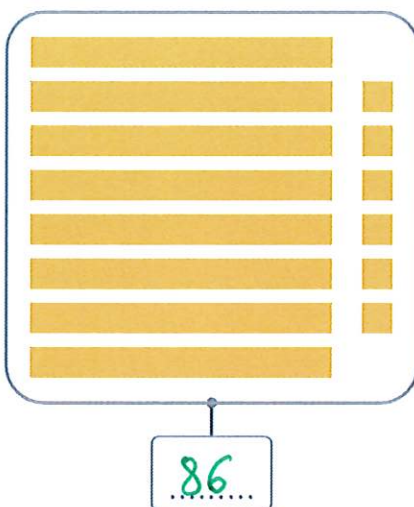
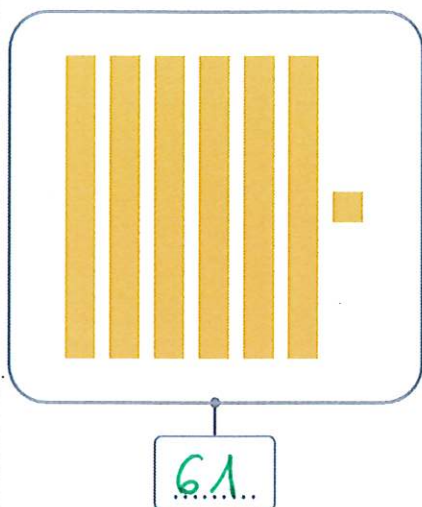
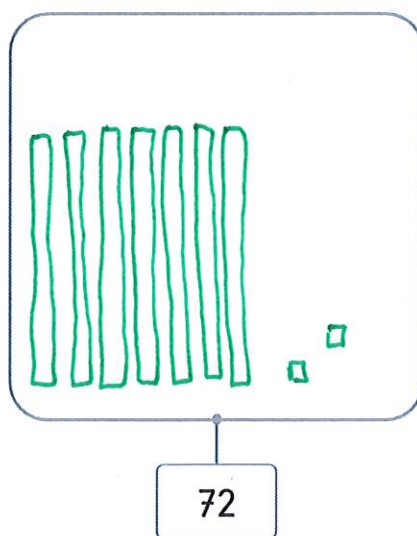
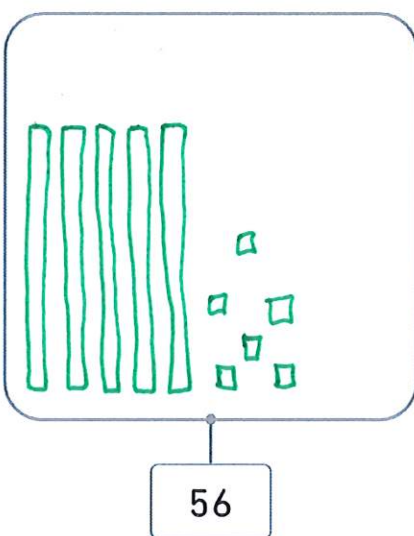
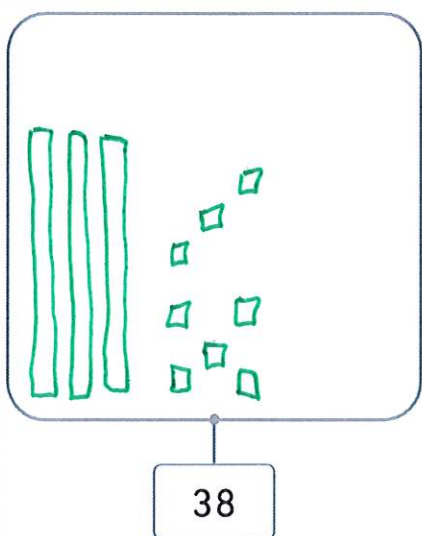


## LES DIZAINES ET LES UNITÉS RESTANTES

1 Écris les nombres représentés.



2 Dessine les dizaines et les unités restantes de ces nombres.



3 Écris les nombres en chiffres.

$$4d = 40$$

$$7u = 7$$

$$2d \ 9u = 29$$

$$3u \ 8d = 83$$

$$9u = 9$$

$$7d \ 16u = 86$$

$$20u \ 4d = 60$$

$$4u \ 6d = 64$$

$$1d = 10$$

$$4d \ 11u = 51$$

$$2d \ 12u = 32$$

$$21u \ 5d = 71$$

$$33u \ 3d = 63$$

$$29u \ 2d = 49$$

$$5u \ 7d = 75$$



**Dessine** les centaines, dizaines et unités manquantes pour obtenir les nombres demandés. Tu n'as pas le droit de barrer.

