


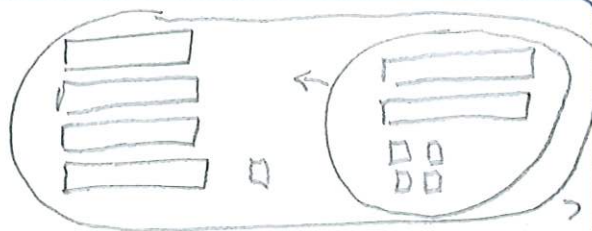
## PROBLÈMES À ÉTAPES

- 1 Sur le parking du supermarché, 58 voitures étaient garées. 17 voitures quittent le parking, puis 24 autres voitures arrivent.

Combien de voitures sont garées sur le parking maintenant ?



Je calcule :  $58 - 17 = 41$

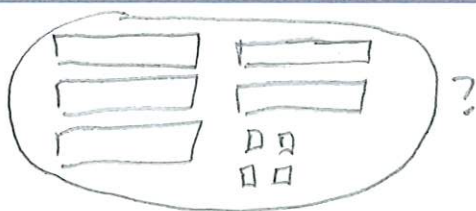


$41 + 24 = 65$

65 voitures sont garées maintenant.

- 2 Sur une guirlande multicolore de 80 lampes, il y a 30 ampoules rouges et 24 ampoules bleues. Les autres ampoules sont vertes.

Combien d'ampoules vertes y a-t-il sur la guirlande ?



Je calcule :  $30 + 24 = 54$



$80 - 54 = 26$

Il y a 26 ampoules vertes sur la guirlande.

- 3 Dans sa tirelire, Malo a 3 billets de 5 euros, 9 pièces de 1 euro ainsi que 4 pièces de 2 euros.

Combien d'euros Malo a-t-il dans sa tirelire ?

Je calcule :  $3 \times 5 = 15$      $9 \times 1 = 9$      $4 \times 2 = 8$      $15 + 9 + 8 = 32$

Malo a 32 € dans sa tirelire.